

要点プリント①

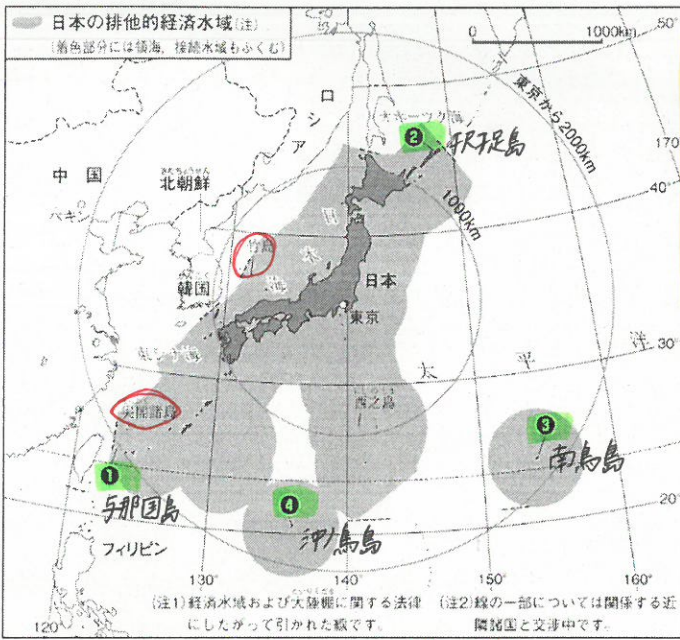
第2部 日本のさまざまな地域 第1章 日本の姿①

教科書p120、121、124~131

古:古澤先生の解説&ポイント
レクチャー読んでね!

めあて 日本の範囲について理解しよう!

<日本の領域>



- 日本の最西端 → (1) 与那国島
- 日本の最北端 → (2) 択捉島
- 日本の最東端 → (3) 南鳥島
- 日本の最南端 → (4) 沖ノ鳥島

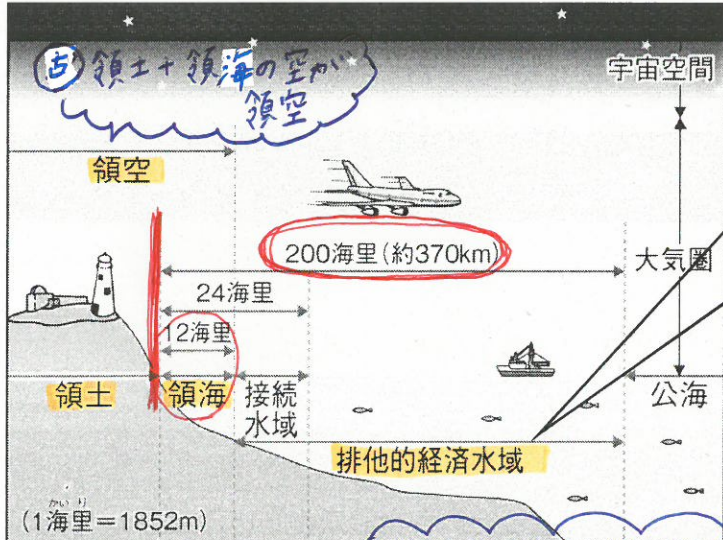
古:日本の4つの端の島の名前は位置とセットでレクチャー覚えよう!

☆300億もかけて 沖ノ鳥島の護岸工事をしたのはなぜだろう?

沖ノ鳥島が水没してしまうと、広い範囲の排他的経済水域を失うため。

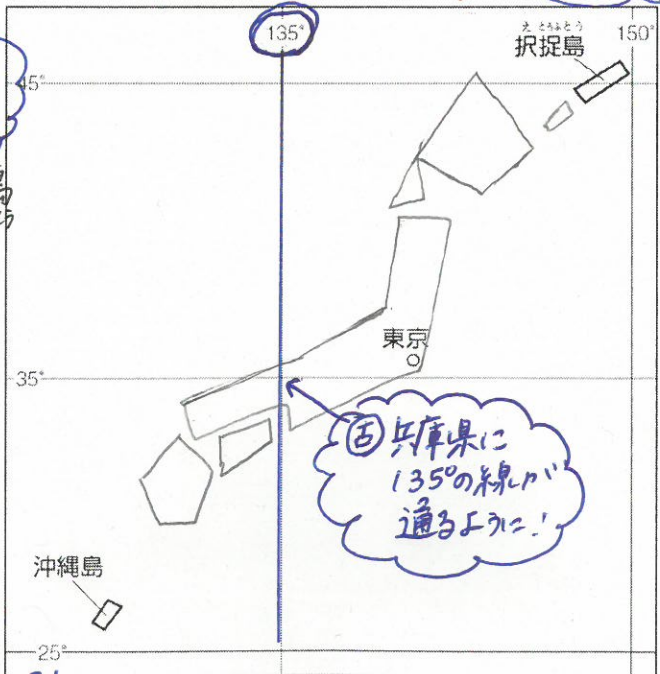
古:魚とか鉱産資源とやらなくならないで預金やろうもんね

☆一つの国の範囲を (5) 領域 という。
⇒ (6) 領土、(7) 領海、(8) 領空 からなる



【(9) 排他的経済水域】超重要
 ・海岸線から (10) 200 海里以内の範囲
 ・沿岸国が魚などの (11) 水産 資源や (12) 鉱産 資源を利用する権利をもつ
 ↳ 銅、金など

古:1つに何度も書いて書けるように
 <日本の略地図を書いてみよう!> しておいてね!



<日本の領域と領土問題>

- (13) 北方領土 ...対ロシア
- (14) 77島 ...対韓国
- (15) 尖閣諸島 ...対中国

<都道府県と地方区分>

- ☆都道府県 → 全部で (16) 47
- ☆7地方区分 (北海道、東北、関東、中部、近畿、中国・四国、九州)
- ☆他にも...
 - ・東日本、西日本、北海道
 - ・中部地方 → 東海、中央高地、北陸

古:都道府県と県庁所在地はもうバッチリだよ!
 やばい!覚えているかと思いたるおぼには 資料集日本P.4.5とくり返せよう!